



Middle Years
Programme



BURSA

NİLÜFER

ANADOLU İMAM HATİP LİSESİ FEN VE SOSYAL BİLİMLER PROJE OKULU

5. SINIF

KABUL SINAVI



18 MAYIS 2021

**KOMİSYON
BAŞKANI****ABDULKADİR ÇINAR****TÜRKÇE****DİLEK KANDEMİR****MATEMATİK****MUSTAFA OLAM****FEN BİLİMLERİ****SEMİH KAVAS****SOSYAL
BİLGİLER****NİLÜFER SÖNMEZ
KESKİN****İNGİLİZCE****MELAHAT ALTUN****DİN KÜLTÜRÜ****ŞEYMA ARSLAN****DİZGİ & REDAKSİYON
MUSTAFA OLAM**

Bu kitapçıkta yer alan soruların, bireysel kullanım dışında izin alınmadan kısmen ya da tamamen kopyalanması, çoğaltılması, kullanılması, yayınlanması ve dağıtılması kesinlikle yasaktır. Bu yasağa uymayanlar hakkında 5846 sayılı Kanun uyarınca yasal işlem yapılacaktır. Kitapçığın tüm hakları Nilüfer AİHL' ye ait olup, tüm hakları saklıdır.”

2021

1)

Türkiye'nin Kitap Okuma İstatistiği



Türkler günde **6 saat TV** izliyor, **3 saat internete** giriyor; ancak kitap okumaya günde **sadece 1 dakika** ayırıyor.

Türkiye'de, kitap okumak ihtiyaç listesinde **235. sırada** yer alıyor.

Türkiye, kitap okuma alışkanlığında dünyada **86. sırada** yer alıyor.

Türkiye'de, **her 100 kişiden sadece 1'i** kitap okuduğundan, dünya sıralamasında son sırada yer alıyor.

Türkiye'de, **her 100 kişiden sadece 4'ü** kitap okuyor.

Kitap okuyan her 100 kişiden,
- **65'i aşk**
- **24'ü siyasi**
- **13'ü düşünce,**
- **7'si kişisel gelişim** kitapları okuyor.

Yukarıdaki görselde verilen bilgilerden yola çıkarak aşağıdakilerden hangisine ulaşamaz?

- A) Türklerin televizyon izleme saati internete girme saatinin iki katıdır.
- B) Türkiye'de kitap okumak ihtiyaç listesinde ilk yüzün içinde değildir.
- C) Türkiye kitap okumada, dünya ülkeleri arasında en sırada yer almaktadır.
- D) En az tercih edilen kitaplar, kişisel gelişim kitaplarıdır.

2)

- * Diğer oyuncular körebenin etrafında dolaşır ve ona dokunurlar.
- * Körebe onları yakalamaya çalışır.
- * Körebe, dünya genelinde yaygın bir şekilde oynanan bir çocuk oyunudur.
- * Körebe olarak adlandırılan oyuncunun gözleri mendil veya eşarp gibi bir malzemeyle bağlanır.

Bu cümleler oluş sırasına göre dizildiğinde "Böylelikle ebe etrafını göremez hale getirilir." cümlesi baştan kaçınıcı sırada yer alır?

- A) 2
- B) 3
- C) 4
- D) 5

3) Gerçek ya da gerçeğe yakın bir olayı; yer, kişi ve zaman belirterek anlatan kısa yazı türüne **hi-kaye** denir.

Buna göre aşağıdakilerden hangisi bir hikaye örneği olamaz?

- A) Pencereden sızan güneş sabahın habercisiydi. Her ne kadar uyanmak istemesem de kalkmam gerekiyordu. Bugün benim ilk iş günümdü.
- B) Bir adam sabaha karşı okyanus kenarında yürüyormuş. Birden binlerce deniz yıldızının karaya vurduğunu görmüş. Daha da yaklaştığı zaman orada bir köpeğin olduğunu fark etmiş.
- C) Gece saat on ikiyi yirmi geçiyor. Meydanda oturmuş, otobüs bekliyorum. Bu saatte otobüs bulamayacağımın endişesini de yaşıyorum bir yandan.
- D) Yaşlı kurbağa o gün de umutsuzca çıkmıştı yola. Yiyecek bulamayacak diye endişeleniyordu. Derken, çalıkların arasından bir ses işitti. "Hey! Kim var orada?" diye seslendi.

4)



Türk tarihinin en eski dönemlerinden bugüne ulaşan birçok oyundan biri olan “aşık oyunu“, bugün hâlâ Orta Asya'nın muhtelif bölgelerinde benzer adlarla oynanmaya devam etmektedir. Bu oyun, ismini koyun, kuzu ve keçilerin arka bacaklarındaki diz eklemine bulunan aşık kemiğinden almaktadır. Dört köşesi bulunan aşık kemiği, oldukça dayanıklıdır ve eski zamanlarda insanlar tarafından oyun aracı olarak kullanılmıştır. Bu oyun bugün hâlâ en eski şekliyle Kırgızistan ve Kazakistan gibi Orta Asya Türk Cumhuriyetlerinde oynanmaktadır. Bununla birlikte, Anadolu'daki misket, bilye, gülle gibi adlarla anılan bazı oyunlara ilham kaynağı olduğu düşünülmektedir.

Yukarıda anlatılan aşık oyunu ilgili hangi bilgiye ulaşamaz?

- A) Oyunun ismini nerden aldığına
C) Günümüze ulaşan tek Türk oyunu olduğuna

- B) Bazı oyunların ondan esinlenmiş olabileceğine
D) Oyunun günümüzde nerelerde oynandığına

5) Bir kelimenin aklımıza gelen ilk anlamına **gerçek anlam**, gerçek anlamdan tamamen uzaklaşarak kazandığı yeni anlama **mecaz anlam** denir.

Ayşe: “ Fatma teyze bizi çok sıcak karşıladı.”

Elif: “ Söylenenleri duyunca kalbi çok kırıldı.”

Tamer: “Yoldan geçerken kanadı yaralı bir kuşa rastladık”

Esra: “O köye varabilmek için keskin virajlardan geçmek gerekiyor.”

Çocuklardan hangisi cümlesinde mecaz anlamlı kelime kullanmamıştır?

- A) Tamer B) Esra C) Elif D) Ayşe

6) “Yazın bu küçük mahalle kahvesinin bahçesine daima gittiğim için; karayelin, tipinin çılgınca savrulduğu akşam içeriye girdiğim zaman yadırganmadım.”

Yukarıdaki cümlede altı çizili kelimenin yerine aşağıdakilerden hangisi getirilebilir?

- A) Ara sıra B) Nadiren
C) Bazen D) Sürekli

7) Tuğba yıllardır görmediği üniversite arkadaşı Bilge'ye bir mektup yazmak istemektedir. Bilge 'nin yazım ve noktalama kuralları konusunda çok dikkatli davrandığını bilmektedir. Mektubunu yazarken büyük harflerin doğru yazımına ve noktalama yanlışı yapmamaya özen göstermektedir.

Buna göre Tuğba mektubuna aşağıdakilerden hangisiyle başlamalıdır?

A) Sevgili Arkadaşım,

B) Sevgili Arkadaşım;

C) Sevgili arkadaşım;

D) Sevgili arkadaşım,

8)

Hesabını bilmeli,
Zor günleri görmeli,
Değer verip emeğe,
Savurgan olmamalı.

Verilen dördüğü en iyi ifade eden atasözü aşağıdakilerden hangisidir?

- A) El elden üstündür.
B) Ayağını yorganına göre uzat.
C) Komşu komşunun külüne muhtaçtır.
D) Bin bilsen de bir bilene danış.

9)



Aşağıdaki dörtlüklerden hangisi bu görselden yola çıkılarak yazılan bir şiirden alınmış olamaz?

A) Önüne çıkar engel
Bazen çığ bazen de sel
Sımsıkı ormanları
Yıkamaz hiç bir yel

B) Bir elin nesi var
Neleri yapabilir
İki elin sesi var
Dağları aşabilir

C) Bir iplikle kumaş
Bir ağaçla orman olmaz
Yan yana olmayınca
Taş yerinden oynamaz

D) Sevgi sıcak bir eldir,
Bazen serin bir yeldir
O her şeye bedeldir,
Yaşama sevincidir.


10)



Kezban yukarıdaki görsele uygun bir slogan yazacaktır. Buna göre, Kezban aşağıdaki sloganlardan hangisini yazmış olamaz?

- A) Yeşili sev, doğayı koru
B) Doğayı kirletme, geleceği yok etme
C) Bugün fidan, yarın nefes
D) Bir fidan, bin hayat

11) Ahmet hafta sonu kitaplığındaki bütün kitapları (hikaye, roman, çizgi roman, masal, şiir, ders kitapları) yerleştirmiştir. Kitaplık üç raflı olup rafların arasında şekildeki gibi bölmeler bulunmaktadır.



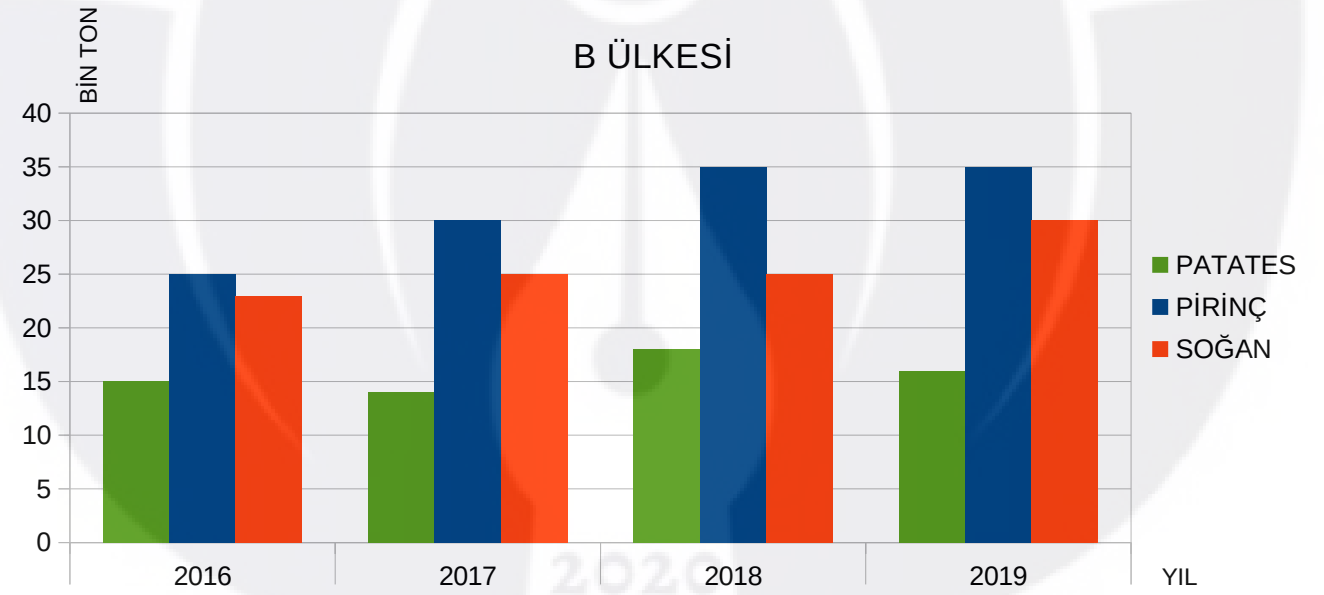
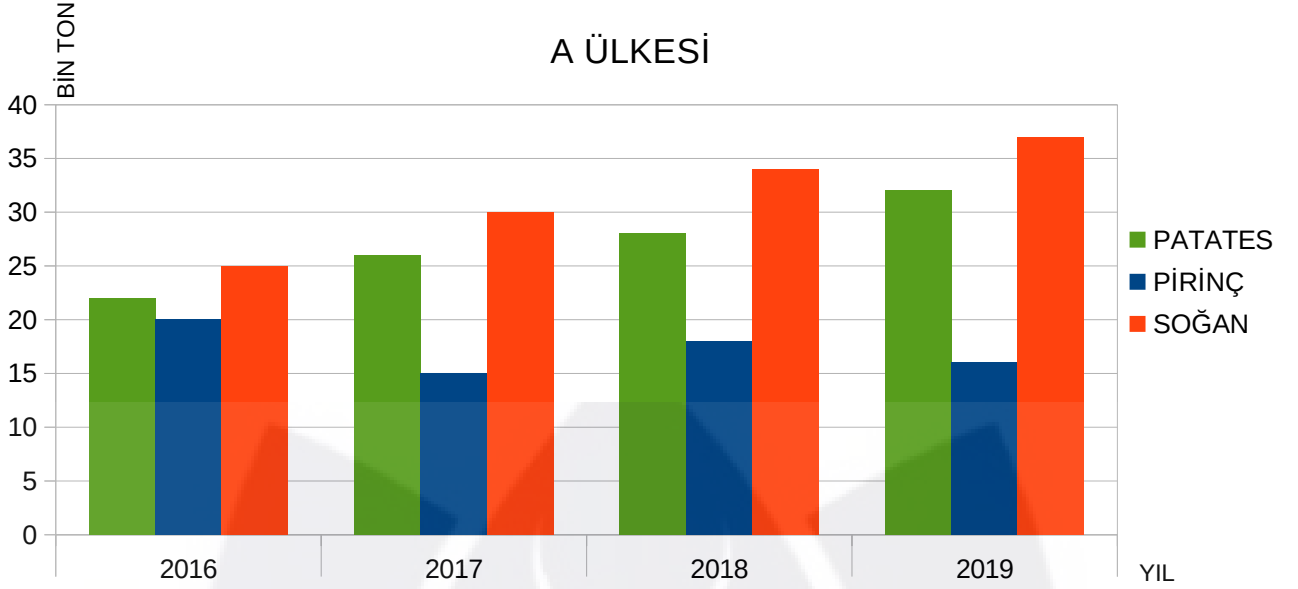
Ahmet'in kitaplığı ile ilgili bilinenler şunlardır.

- ✓ Romanlar birinci rafta sağdadır.
- ✓ Çizgi romanlar ile hikayeler aynı raftadır.
- ✓ Masallar romanların çaprazındadır.

Verilenlere göre aşağıdakilerden hangisi kesinlikle söylenemez?

- A) Hikayeler sol taraftadır.
B) Çizgi romanlar ikinci raftadır.
C) Masallar sol taraftadır.
D) Ders kitapları birinci raftadır.

12)



Grafikte verilenlerden yola çıkarak aşağıdakilerden hangisi söylenemez?

- A) A ülkesinde soğan üretimi yıllara göre düzenli olarak artış göstermiştir.
B) B ülkesinde pirinç üretimi son yılda artış göstermemiştir.
C) 2018 yılında B ülkesinde pirinç üretimi, soğan ve patates üretiminin toplamından azdır.
D) 2016 yılında her iki ülkede 20 bin tondan fazla pirinç üretilmiştir.

13)



Yandaki görseli en iyi ifade eden cümle aşağıdakilerden hangisidir?

- A) Hayatı değiştirmek ve mutlu olmak için hiçbir şey geç değildir.
B) Yıldızları görmek için önce karanlığa ihtiyaç vardır.
C) Hayatın nasıl olduğu değil ona nasıl baktığınız önemlidir.
D) Güne nasıl başlarsanız devamı da öyle gelecektir.

14)

1873 yılında İstanbul Fatih'te dünyaya gelen şairimizin babası Tahir Efendi, annesi Emine Cemile Hanım'dır. Babası Fatih Medresesi müderrislerindedir. Annesi ise Buharalı Mehmet Efendi'nin kızıdır.

Eğitim Hayatına 1878 yılında 4 yaşında başlar. Emir Buhari'de yer alan Mahalle Mektebi ilk eğitime başladığı yerdir.


12 Mart 1921 günü ise Akif'in yazdığı şiir, milli marşımız olarak kabul edilir.

Babasının vefat etmesinin ardından Halkalı'da yer alan Baytar Mektep-i Ali'ye parasız yatılı olarak girer. Şairimiz veterinerlik fakültesini birincilikle bitirir.

1921 yılında para ödülü almamak şartı ile milli marş yarışmasına katılmayı kabul eder.

1920 yılına gelindiğinde ise Mehmet Akif Ersoy, Burdur milletvekili olarak meclise girer.

Veteriner olarak göreve başladığı ilk yıllar bile daha çok şairliği ile tanınır. 1906 yılında Halkalı Baytar Mektebi'nde, 1908 yılından sonra ise Edebiyat Fakültesinde öğretmenlik yapar.



Yukarıdaki bilgilere göre Mehmet Akif Ersoy ile ilgili,

Eğitim hayatına dört yaşındayken Mahalle Mektebi ile başlamıştır.

Babası vefat edince eğitime ara vermiştir.

İki yıl baytar mektebinde öğretmenlik yapmıştır.

1921 yılında Burdur milletvekili olmuştur.

Ödüllü olduğu için milli marş yarışmasına katılmamıştır.

Milli marşımızın kabulünün üzerinden yüz yıl geçmiştir.

ifadelerinden kaçına ulaşılabilir?

A) 2


B) 3

C) 4

D) 5

15)

"Tutumluluk"
Tutumluluk, az şeyi çoğaltır;
israf, çok şeyi azaltır.
(Hz. Ali)



Yanda verilen görsel ve üzerinde yazılanlar düşünüldüğünde bunu en iyi ifade eden atasözü hangisidir?

A) İşten artmaz dışten artar.

B) Aza kanaat etmeyen çoğu bulamaz.

C) Bir elin nesi var iki elin sesi var.

D) Gün doğmadan neler doğar.

MATEMATİK

1)

5	4	0
6	8	3
7	9	6

Matematik öğretmeni Medet Bey,doğal sayıları okuyup yazma konusu ile ilgili sınıf zeminine yukarıdaki tabloyu çiziyor. Oyun kuralları:

- Sağa-sola-yukarıya-aşağıya doğru hareket edilebilir,
- Çapraz hareket edilemez,
- Her kareden sadece bir defa geçilebilir,
- Köşe karelerden çıkış yapılmalı,

Yukarıda verilen oyunu başarılı şekilde tamamlayan Hasan, beş basamaklı oluşturabileceği en büyük doğal sayıyı oluşturuyor.

Buna göre, Hasan'ın bulduğu sayı aşağıdakilerden hangisidir?

A) 98 654

B) 79 845

C) 79 840

D) 76 540

2)

2344	2444	2644
1623	1423	1323
176	376	576

Yanda verilen şekilde her satırda farklı bir kural vardır.

Buna göre aşağıdakilerden hangisi yukarıdaki kurala gelmesi gereken sayılarda biri değildir?

A) 776

B) 1523

C) 676

D) 2544

3)

NİLÜFER ANADOLU İMAM HATİP FEN VE SOSYAL BİLİMLER PROJE OKULU

	9. SINIF	10. SINIF	11. SINIF	12. SINIF
KIZ	83	68	88	95
ERKEK	76	99	92	85

Yandaki tabloda Nilüfer Anadolu İmam Hatip Fen ve Sosyal Bilimler Proje Okulu lise grubundaki sınıflarının mevcutları verilmiştir.

Alparslan, okuldaki öğrenci sayısını hesaplamak için tablodaki verileri onlar basamağına göre yuvarlayarak buluyor.

Şenel ise sınıf mevcutlarını yüzler basamağına göre yuvarlayarak okulun öğrenci sayısını buluyor.

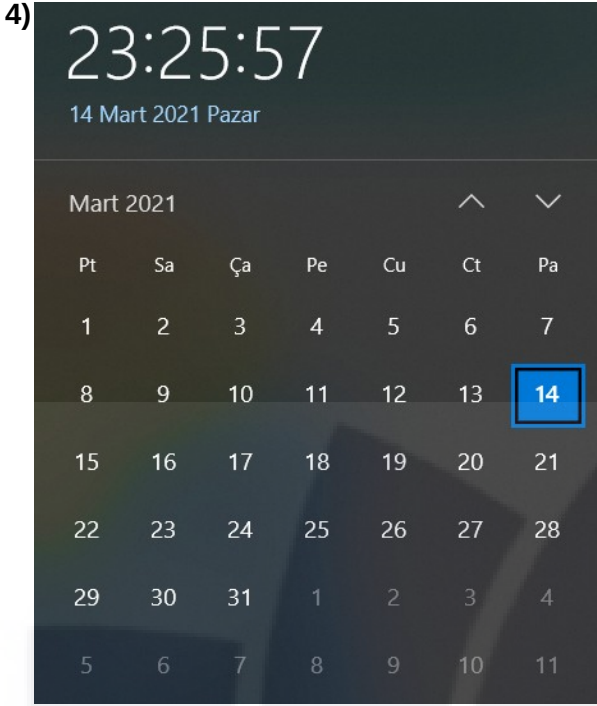
Buna göre Alparslan ile Şenel'in bulduğu sonuçlar arasındaki fark aşağıdakilerden hangisidir?

A) 80

B) 90

C) 100

D) 110



1 gün=24 saat
1 saat= 60 dakika

Nilüfer, bilgisayarının takvim ve saat menüsünü açınca yukarıdaki görseli görüyor ve ajandasına 2000 dakika sonra gerçekleştireceği etkinliği kaydediyor.

Buna göre Nilüfer'in etkinlik zamanı aşağıdakilerden hangisidir?

- A) 13 Mart 2021 14:05
- B) 15 Mart 2021 08:55
- C) 16 Mart 2021 07:55
- D) 16 Mart 2021 08:55

5)



Dilek, 256 GB'lık hardiskli olan bilgisayarına, 18 GB'lık, 24 GB'lık iki uygulama yükledikten sonra ne kadar alan kapladığı bilinmeyen 3. bir uygulama daha yüklüyor.

Üç uygulama bilgisayar harddiskinde $\frac{3}{16}$ 'lük alan kapladığına göre, Dilek'in son yüklediği uygulama kaç GB'tır?

- A) 16
- B) 12
- C) 8
- D) 6


6)

$$\square + 12 = 140 : 7$$

olduğuna göre, \square yerine aşağıdakilerden hangisi gelmelidir?

- A) 8
- B) 10
- C) 12
- D) 14

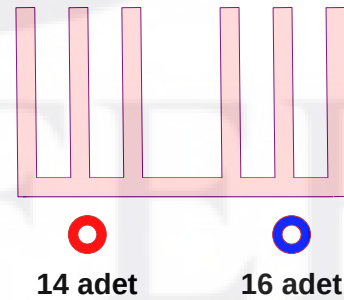
7)



Yukarıda modellenen işlem, sıralı şekilde aşağıdakilerden hangisidir?

- A) $\frac{14}{16} - \frac{8}{16} = \frac{6}{16}$
- B) $\frac{8}{16} + \frac{6}{16} = \frac{14}{16}$
- C) $\frac{4}{16} + \frac{8}{16} = \frac{14}{16}$
- D) $\frac{6}{16} + \frac{8}{16} = \frac{14}{16}$

8)



Yukarıda verilen 14 adet kırmızı halkayı binler bölümünde, 16 adet mavi halkayı birler bölümünde kullanarak sayılar oluşturuluyor.

Buna göre oluşturulabilecek rakamları farklı en küçük 6 basamaklı doğal sayı aşağıdakilerden hangisidir?

- A) 149862
- B) 149268
- C) 109268
- D) 194268

9)



“Fındıksever” ailesi her gün bir önceki günün 5 katı fındık tüketiyor. Bu aile 5. gün 5000 fındık tüketmiştir.

Yukarıda verilen bilgilere göre aşağıdakilerden hangisi yanlıştır?

- A) Aile 2. gün 40 tane fındık tüketmiştir.
 B) Aile 4. gün 1000 tane fındık tüketmiştir.
 C) Aile 2.günün sonunda toplam 48 tane fındık tüketmiştir.
 D) Aile 5 günde toplam 6240 tane fındık tüketmiştir.

10)

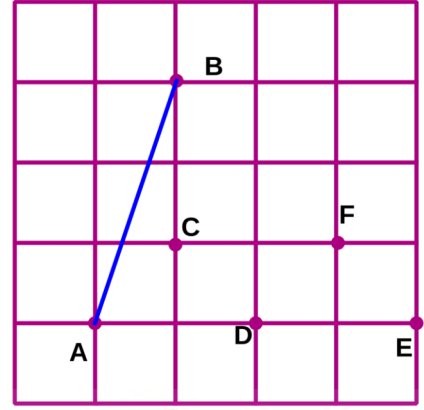


İbrahim giyim mağazasında 3 pantolon, 2 spor ayakkabı, 1 ceket, 2 elbise alıp, ücretin bir kısmını nakit ödeyip geriye kalanı ise 200 TL taksit ile 5 taksitte ödüyor.

Buna göre İbrahim'in nakit olarak yaptığı ödeme kaç TL'dir?

- A) 350 B) 250 C) 210 D) 170

11)



Yukarıda birim kareli zemin üzerinde [AB] doğru parçasının uçları aşağıdaki hangi nokta ile birleştirilir ise ikizkenar üçgen elde edilir.

- A) F B) E C) D D) C

12)

İçecekler	Sayı
Ayran	///-///-///
Kola	///-///
Çay	///-///-///
Soda	///-

Nilüfer Anadolu İmam Hatip Orta Okulu, İzmir Şirince' de bulunan Matematik Köyüne gezi düzenlerken yolculuk sırasında mola verdikleri bir lokantadaki öğrencilere ait içeceklerin çetele tablosu yukarıda verilmiştir. Gezide öğrencilere, Abdulkadir, Mustafa ve Semih Hoca rehberlik ediyor.

Gezi için okul, 50 kişilik bir otobüs kiraladığına göre, otobüste kaç kişilik boş yer vardır? (Her öğrenci sadece bir tane içecek almıştır)

- A) 6 B) 7 C) 8 D) 9

13)



Aylin, Ayten, Ayşe, Aysu ve Aydın yuvarlak bir masa etrafında yan yana oturacaklardır. Aydın ve Ayten yan yana oturmuşlardır. Aylin ile Aysu yan yana oturmamışlardır.

Yukarıda verilenlere göre Ayşe'nin sağında ve solunda kimler oturuyor?


A) Aylin ve Aydın

B) Ayten ve Aydın

C) Aylin ve Aysu

D) Ayten ve Aylin

14)



$\frac{1}{3}$

Melahat

$\frac{2}{4}$

Semih

Öğlen yemeği için Melahat ve Semih şekildedeki gibi hazır dilimli pizza siparişi vererek tabakların altında yazan kesir kadar pizza yemiştirler.

Melahat ve Semih aynı anda pizza dilimlerini aldığına göre Semih Melahat'ten kaç dilim fazla pizza yemiştir?

A) 1

B) 2

C) 3

D) 4

15)



Bir çıkarma işleminde eksilen, çıkan ve farkın toplamı 380'dir.

Çıkan sayı "0" (sıfır)dan farklı bir doğal sayı ve kalan sayı ise alabileceği en büyük değeri aldığına göre aşağıdaki bilgilerden hangisi yanlıştır?

- A) Kalan sayı ile çıkan sayının toplamı eksilene eşittir.
B) Kalan sayı 189, çıkan sayı ise 1'dir.
C) Eksilen sayı, çıkan sayının iki katına eşittir.
D) Kalan sayı 1 olsaydı, çıkan sayı da 189 olurdu.

SOSYAL BİLGİLER

1) Aşağıda Zeynep'in arkadaşlarının bazı özellikleri verilmiştir.



- Ayşe ve Ali kitap okumayı çok sevmektedir.
- Mehmet futbol oynamayı severken, Fatma voleybol oynamayı çok sevmektedir.
- Zehra resim yapmaktan hoşlanırken, Büşra müzik dinlemekten hoşlanmaktadır.

Zeynep'in arkadaşlarının bu özelliklerini düşünerek aşağıdaki yargılardan hangisine ulaşamayız?

- A) İnsanlar arasındaki farklılıklar toplumun zenginlik oluşturur.
B) Bireysel farklılıklar kişilerin özel olmasını sağlar.
C) Bireysel farklılıkların olması beraber vakit geçirmek için engel olur.
D) İnsanlar arasındaki farklılıklara saygılı olunmalıdır.

2) Aşağıda kültürel öğeler ile ilgili olduğu alanlar eşleştirilmiştir.

	Kültürel öğeler	Kültür dalı
I	Kurban Bayramı	Kültürel kutlama
II	Türk lokumu-Türk kahvesi	Yiyecek- içecek
III	Çinicilik-Bakırcılık	El sanatları
IV	Türk motifleri ile süslü el dokuması halı	Mimari Eser

Hangi eşleştirme de hata yapılmıştır?

- A) Sadece I
B) Sadece IV
C) I – III
D) II - III

3) Aşağıdakilerden hangisi bilinçli tüketici davranışlarından değildir?

- A) Ambalajlı gıda maddeleri satın alırken bunların üretim ve son kullanma tarihlerinin yanı sıra "içinde kiler" bölümünü de inceler.
B) Alışverişte karar verirken ürünün fiyatını birkaç yere sorarak gerçek değerini ne olduğunu öğrenir.
C) Alışverişte sadece ürünün markasına bakar.
D) Aldığımız ürünlerin ambalajlarının geri dönüştürülebilir malzemelerden üretilmiş olup olmadığına bakar.

4)

İnsanların temel ihtiyaçlarını giderdikten sonra isteklerini karşılamaya çalışmaları son derece doğal bir durumdur. Ancak istekler çok çeşitlidir. Ve bunların tamamının karşılanması çoğu zaman mümkün olamamaktadır. Bu nedenle karşılanması hâlinde elde edilecek fayda göz önünde bulundurularak istekler sıraya konulmalıdır. Daha sonra bütçe durumu göz önünde bulundurularak isteklerin giderilmesine çalışılmalıdır.

Yukarıdaki metne göre aşağıdakilerden hangisine ulaşılır?



- A) İstekler karşılanırken fayda durumuna bakılmalıdır.
B) Aileler çocuklarının tüm isteklerini karşılamalıdır.
C) İsteklerimiz karşılanmadığında hayatta kalabil-memiz zordur.
D) İsteklerimizin karşılanması her zaman faydalıdır.

5)

DEPREM ANINDA YAŞAM ÜÇGENİ OLUŞTURUN (ÇÖK-KAPAN-TUTUN)!

- Sabitlenmemiş dolap, raf, pencere gibi eşyalardan uzak durulmalıdır.
- Okulda sınıfta ya da büroda sağlam sıra, masa altlarında veya yanında; koridorda duvarın yanına hayat üçgeni oluşturacak şekilde ÇÖK-KAPAN-TUTUN hareketi ile baş ve boyun korunmalıdır.
- Sabitlenmemiş dolap, raf, pencere vb. eşyalardan uzak durulmalıdır.
- Varsa sağlam sandalyelerle desteklenmiş masa yanına veya dolgun ve hacimli koltuk, kanepé, içi dolu sandık gibi koruma sağlayabilecek eşya yanına çömelerek hayat üçgeni oluşturulmalıdır.
- Baş iki el arasına alınarak veya bir koruyucu (yastık, kitap gibi) malzeme ile korunmalıdır. Sarsıntı geçene kadar bu pozisyonda beklenmelidir.

Buna göre, aşağıdaki görsellerden hangisinin konumu yaşam üçgenine uygundur?



FEN BİLİMLERİ

1) Aşağıda eşit büyüklükte bazı kayaç çeşitleri verilmiştir.



Bu kayaçları sınıfa getiren Nilüfer Öğretmen, öğrencilerinden bunları incelemelerini ve sonuçlarını sınıf ile paylaşmalarını istemiştir. Buna göre sadece bu incelemeyle hangi seçenekteki öğrencinin çıkarımı doğru değildir?

- A) Kayaçlar farklı renkte olabilir.
C) Kayaçların şekilleri birbirinden farklı olabilir.

- B) Kayaçlar minerallerden oluşur.
D) Kayaçlar katı maddelerdir.

2) Aşağıda Dünya'nın Güneş'e göre konumu ile K, L, M ve N şehirlerinin konumları verilmiştir.



Buna göre;

- I. K şehirde gündüz olduğunda N şehirde gece yaşanır.
II. K ve L şehirlerinde aynı anda gündüz yaşanır.
III. L ve N şehirlerinde aynı anda gece yaşanır.

yargılarından hangileri doğrudur?

- A) I ve II
B) I ve III
C) II ve III
D) Yalnız II

3) Aşağıda öğrenciler yaşadıkları olaylarla ilgili bazı durumlardan bahsetmişlerdir.



Buna göre bu öğrencilerin hangi besin grubundan yiyecekler tüketmeleri önerilir?

- | | Serkan | Dilek | Yeliz |
|----|---------------|--------------|--------------|
| A) | protein | karbonhidrat | yağ |
| B) | karbonhidrat | protein | vitamin |
| C) | karbonhidrat | vitamin | protein |
| D) | protein | protein | vitamin |

4) Yukarıda, Semih Öğretmen'in alışverişte bir günü anlatılmıştır.

"Semih Öğretmen bir kış günü okuldan çıktıktan sonra meyve ve sebze almak için pazara gitti. Mevsim mahsullerinden karnabahar ve portakal aldı, alırken tazelerinden seçmeye gayret etti. Kızı çok sevdiği için mevsim meyvesi olmamasına rağmen çilek de aldı. Hemen yanında bir tezgahta peynirci vardı, oradan da açık süt ve peynir aldı. Evin yolunu tutmadan önce bir de süpermarkete girdi, buradan da yarım kilo kıyma aldı, kıymanın ne zaman paketlenmişine baktı, marketten aldığı ambalajlı ürünlerin de ambalajlarını kontrol edip son tüketim tarihlerine baktı."

Yukarıdaki metne göre,

- I. Ambalajlı ürünlerin son tüketim tarihlerini kontrol etmesi doğru bir davranıştır.
- II. Pazardan açık süt ve peynir alması doğru bir davranıştır.
- III. Mevsim meyvesi olmamasına rağmen çilek alması doğru bir davranıştır.
- IV. Eve geldiğinde ilk olarak bozulacak yiyecekleri yerleştirmelidir.

cümlelerinden kaç tanesi doğrudur?

- A) 1 B) 2 C) 3 D) 4

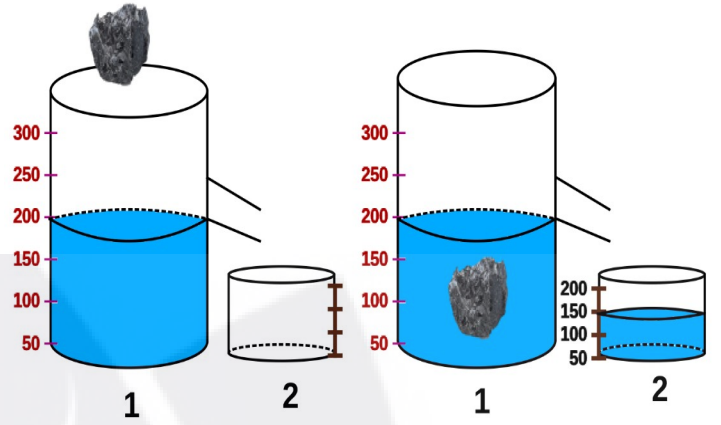
5) Yusuf ve Akif oyuncak arabalarının içlerine mıknatıslar yerleştirerek bir oyun tasarlıyorlar.



Buna göre Yusuf ve Akif karşılıklı gelecek ve aynı anda arabaları birbirlerine doğru fırlatacaklardır. Arabaların içlerindeki mıknatıslar düşünüldüğünde hangi oyunlarında arabalar birbirlerine çarpmamıştır?

- A) Yalnız I B) I ve II C) I ve III D) II ve III

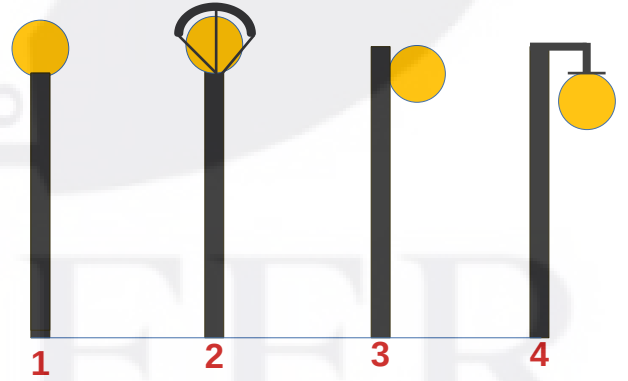
6) Şekli düzgün olmayan katı bir cismin hacmini ölçmek için dereceli kaplardan yararlanırız. Bu yöntemle göre dereceli kaptaki sıvı, maddenin hacmi kadar yükselir.



Yukarıdaki ölçüme göre taşın hacmi kaç mL'dir?

- A) 50 mL B) 100 mL
C) 150 mL D) 200 mL

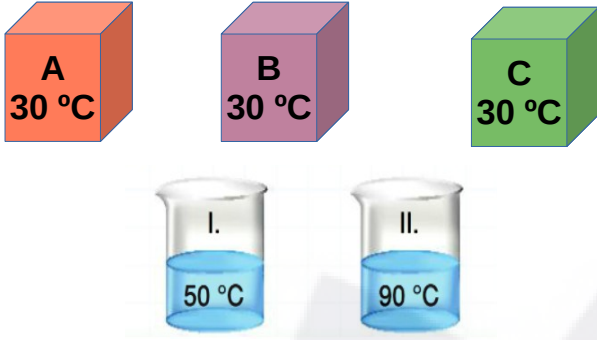
7) Aşağıda bazı sokak lambası modelleri verilmiştir.



Buna göre hangi lambalar aydınlatma için uygundur?

- A) 1 ve 3 B) 2 ve 4
C) 2 ve 3 D) 1 ve 4

8) Onur Öğretmen, A, B ve C küplerini I ve II numaralı kaplara atarak ısı alışverişi hakkında deneyler yapıyor.



Buna göre,

1. A maddesi I numaralı kaba atıldığında ısı alır ve sıcaklığı artar.
2. B maddesi I numaralı kaba atıldığında ısı alışverişi olmaz, sıcaklık değişmez.
3. C maddesi II numaralı kaba atıldığında ısı kaybederek sıcaklığı azalır.
4. II numaralı kaba atıldıklarında tüm maddeler ısı alır ve hepsinin sıcaklıkları artar.
5. I numaralı kaba atıldığında B ve C'nin sıcaklıkları artmaz.

ifadelerinden hangileri doğrudur?

- A) 1, 3 ve 5 B) 1, 2, 4 ve 5
C) 1, 2 ve 5 D) 3, 4 ve 5

9) Aşağıda fosillerin oluşum süreç basamakları karışık olarak verilmiştir.

- I. Kalıntı, bazı etkiler sonucunda yüzeye çıkar ve bozulmadan günümüze ulaşır.
- II. Ölmüş hayvanlar deniz dibine batar ve kalıntıları yavaş yavaş tortul tabaka ile örtülür.
- III. Kayalar kıvrımlanır ve aşınmaya uğrar.
- IV. Tortulların altta kalan katmanları taşlaşır ve kalıntıları sertleşerek fosili oluşturur.

Buna göre süreç basamaklarının oluşumu hangi seçenekte sırasıyla verilmiştir?

- A) IV, II, I, III
B) II, III, IV, I
C) II, IV, III, I
D) IV, III, II, I

10) Aşağıda bir ip çekme yarışmasının süreçleri şekillerle verilmiştir.



1. Şekil: İp, soldaki ok yönünde hareket ediyor.



2. Şekil: İp hareketsiz kalıyor.



3. Şekil: İp, sağdaki ok yönünde hareket ediyor.

Buna göre aşağıdaki seçeneklerden hangisi söylenemez?

- A) Başlangıç durumuna göre 1. şekilde öğrenciler sola doğru hızlanır.
B) 2. şekilde, 1. şekle göre soldaki öğrencilerin hareketi yavaşlar ve durur.
C) 2. şekilde ip dengededir.
D) 3. şekle göre sağdaki öğrencilerin hareketi yavaşlar.

DİN KÜLTÜRÜ VE AHLAK BİLGİSİ

1)

Günlük hayatımızda selamlaşırken dini ifadeler kullanırız. Bir ortama girerken veya bir tanıdığımızla karşılaştığımızda ona "Selamun aleykum" deriz. Hz. Muhammed (sav) Müslümanların aralarında selamı yayması gerektiğini şöyle söylemiştir. "Siz, iman etmedikçe cennete giremezsiniz; birbirinizi sevmedikçe de iman etmiş olamazsınız. Yaptığınız zaman birbirinizi seveceğiniz bir şey söyleyeyim mi? Aranızda selamı yayınız." Selam sayesinde bir Müslüman'ın yolu cennete kadar gidebilmektedir.

Hz. Muhammed'in bu sözüne göre cennete giden yolu aşağıdaki şıklardan hangisi göstermektedir?

- A) Selam ◊ sevgi ◊ iman ◊ cennet
- B) Selam ◊ cennet ◊ sevgi ◊ iman
- C) İman ◊ sevgi ◊ selam ◊ cennet
- D) Sevgi ◊ selam ◊ cennet ◊ iman

2)



Ekmeğin sofralarımıza nasıl geldiğini düşünelim. Ekmeği undan yapıyoruz, unu da buğdaydan öğütüyoruz. Buğday yetiştirmek için tohumla, uygun iklim şartlarına, verimli bir toprağa ve bunları ekip yetiştiren bir çiftçiye ihtiyaç vardır. Buğdayı yetiştirdikten sonra onu başaklarından ayırmak ve öğütmek gerekir. Öğüttüğümüz buğday artık un olmuştur. Undan ekmeğin hamuru yapmak için, suya, tuza, mayaya ve fırına ihtiyaç var. Bunları gerçekleştirmek için bu işi bilen ustaların olması gerekir. Bunlardan herhangi birisinde bir aksaklık olduğunda ekmeğin olmaz. Her gün yediğimiz ekmeğin yapılmasında bile bu kadar çok iş ve detay vardır. Hayatımızdaki her işin bu kadar detaylı olduğunu, ayrıca bu detayların evrendeki tüm varlıkları düşündüğümüzde kat kat arttığını bilmek Allah'ın yüceliğini anlamamızı sağlar. Bu yüzden her anımızda Yüce Allah'ın büyüklüğünü hatırlamak için O'nu yüceltiriz.

Yukarıdaki bilgilere göre Yüce Allah'ın büyüklüğünü kabul ettiğimizi ifade eden dua aşağıdakilerden hangisidir?

- A) Bismillahirrahmanirrahim
- B) Subhanallah
- C) Estağfirullah
- D) İnşallah

3) "Âmentü billâhi ve ve kütübihî ve ve'l-yevmi'l-âhiri ve bi'l-kaderi hayrihî ve şerrihî minallâhiteâla ve'l-ba'sü ba'de'l-mevti Eşhedü ellâ ilâhe illallâh ve eşhedü enne Muhammeden abduhû ve rasûlüh."

İmanın şartlarını içerisinde saydığımız Amentü duasındaki eksikler hangi şıkta sırayla doğru olarak verilmiştir?

- A) hakkun - melâiketihî – rusülihî
- B) melâiketihî – hakkun - rusülihî
- C) rusülihî – melâiketihî - hakkun
- D) melâiketihî – rusülihî – hakkun

4) **Hz. Muhammed;**

- Kureyş kabilesinin Haşimoğlu ailesindedir.
- Dedesi Abdullah, Mekke'nin ileri gelenlerindedir ve unutulmuş zezem kuyusunun yerini Allah'ın izniyle bulmuştur.
- Doğmadan babasını, altı yaşındayken annesini, sekiz yaşındayken de amcasını kaybetmiştir.
- On yaşlarındayken amcasının geçimine katkı sağlamak için çobanlık yapmıştı, bu sayede sorumluluk duygusu çocukken gelişmişti.
- İnsanların güvendiği, sevdiği, saydığı bir insandı. Bu yüzden kendisine daha peygamberlik görevi verilmeden Medineliler ona "el-Emin" sıfatıyla seslenerek "Muhammed'ul - Emin" demişlerdi.

Yukarıdaki bilgilerden kaç tanesi tamamen doğrudur?

- A) 1
- B) 2
- C) 3
- D) 4

5) Ahmet Bey çocuklarının birbirlerine güzel davranmalarını istediği için onlara her zaman güzel örnek olmayı kendisine görev bilmiştir. Çocukları bir hata yaptığında onlara sadece sözleriyle değil davranışlarıyla da doğruyu anlatması gerektiğini düşünmüştür. Çünkü küçükler büyüklerinden gördüklerini yapmaktadırlar. Örnek olmak Ahmet Bey için önemlidir, böyle olmasının sebebi ise Peygamber Efendimiz'in şu sözünü önemse-mesidir: "....."


Aşağıdaki hadis-i şeriflerden hangisinin yukarıdaki metnin sonuna eklenmesi doğrudur?

- A) "... Allah'a ve ahiret gününe iman eden komşusuna eziyet etmesin..."
- B) "İlim ancak öğrenmekle elde edilir."
- C) "Mümin kendisiyle dostluk kurulabilen kişidir..."
- D) "Hiçbir anne baba, çocuğuna güzel terbiyeden daha kıymetli bir bağışta bulunmamıştır."

İNGİLİZCE

1) What time does Daisy do her homework?

Daisy's school starts at eight o'clock and finishes at one o'clock. She arrives at home at half past one in the afternoon. She has a rest for two hours. Then, she does her homework.



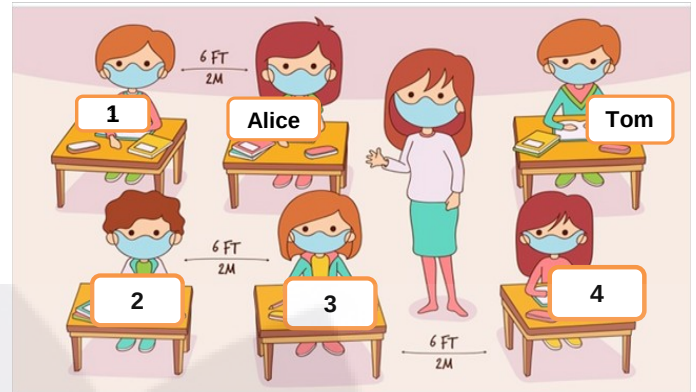
2) Look at the table.

Tom	X	X	✓
Peter	✓	✓	X

Choose the correct option.

- A) Tom likes reading a book but he dislikes doing puzzle.
- B) Peter likes doing puzzle but he dislikes riding a bike.
- C) Tom likes doing puzzle but he likes riding a bike.
- D) Peter likes reading a book but he dislikes doing puzzle.

3) Look at the picture and read the clues.

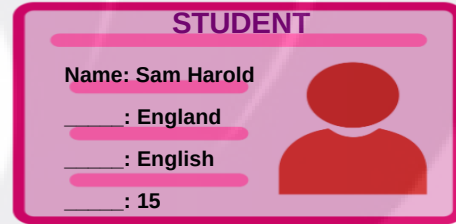


Suzan is in front of Tom.
Bella is between Jack and Suzan.
I am behind Jack.

Which number is me? Where am I? Choose the correct option.

- A) 4
- B) 3
- C) 2
- D) 1

4) Look at the student ID below.



There is NO information about Sam's _____ on the ID card.

- A) age
- B) family
- C) country
- D) nationality

5) Which option does NOT have an answer in the text?

Noah is an English teacher. He works at a small school. There are seven students in his class. He likes teaching his students. He likes reading books and singing very nice songs with his students.



- A) Where does he work?
- B) What nationality is he?
- C) What does he like doing?
- D) How many students are there in his class?

6) Choose the correct option.



- A) Say that again, please B) You're welcome C) Here you are D) Sorry, not right now

7) Which of the following DOES NOT complete the conversation?

Hi. My name is Kate.

I am Sam. _____?

I am 11 years old.

_____?

I am from Italy.

_____?

I like listening to music.

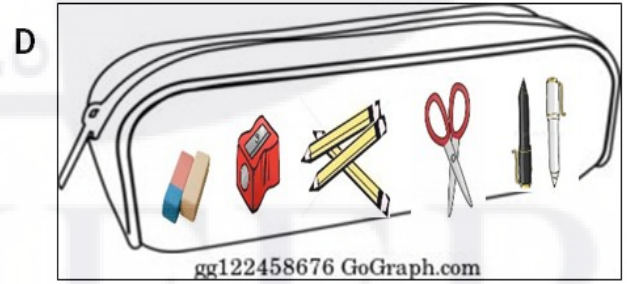

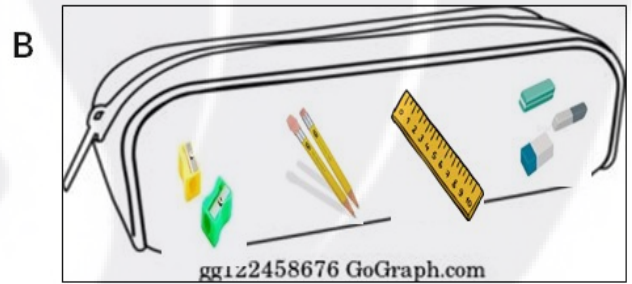
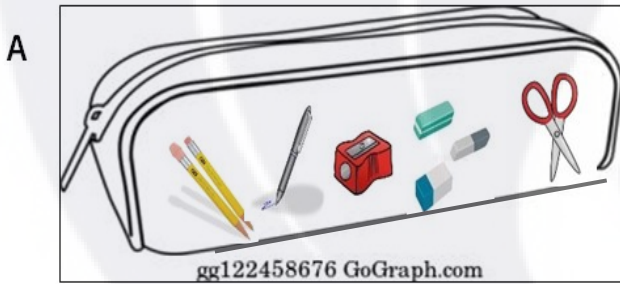
- A) What do you like doing? B) Where are you from?
C) Can you say that again, please? D) How old are you?

8) Read the sentences.

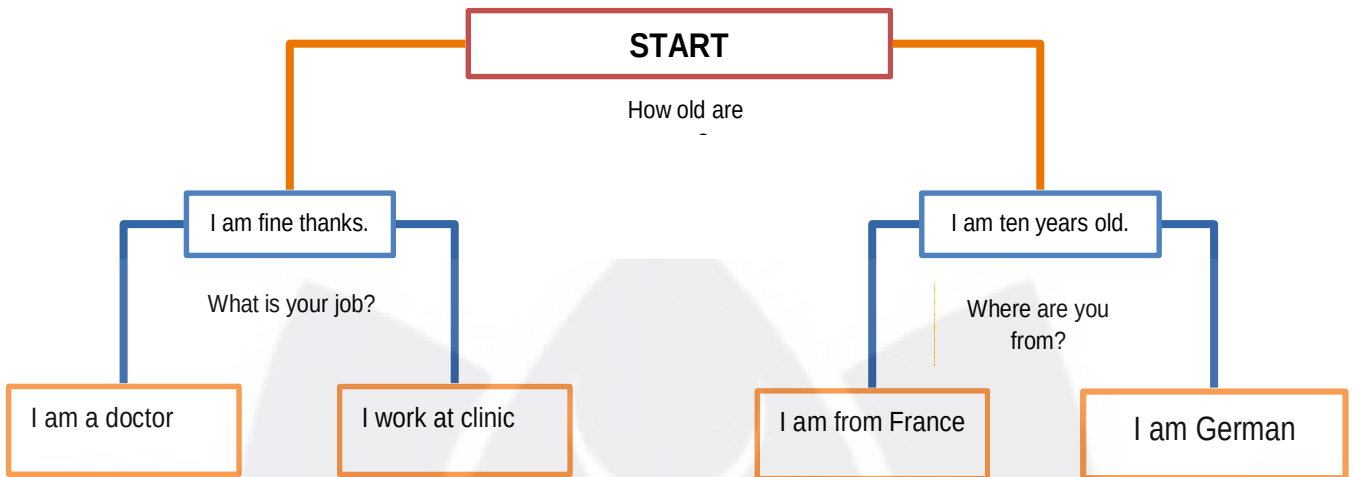


I am Peter. I am a 4th grade student. I love my school. In my pencil case, I have got two pencils, a pencil sharpener, a pen, and three erasers. I haven't got a ruler but I have got scissors.

What does he have in his pencilcase? Choose the correct option.



9) Jane wants to play a game. Help her to find CORRECT move.



Choose the correct option.

A) I

B) II

C) III

D) IV

10) Look at the master chefs and their scores. Which of the following number is NOT given?



A) fifty

B) thirty-seven

C) forty-three

D) twenty-eight

Answer the questions 11/15 according to the paragraph below.

Hello! I am Tobilay. I am ten years old. I am from the USA. I am American. I live in New York. I am in the 4th grade. This is my typical day. I always get up at eight o'clock in the morning but I don't go to school because there is COVID-19 pandemic in the world and children can't go to school. I have online classes on ZOOM in the morning. I have lunch at one o'clock and I do my homework at half past two. My mother helps me with my homework. After homework, I do many activities in my free time at home. I like listening to music and playing the guitar. I dislike watching TV because it is boring. My father is a vet. He likes helping animals. He comes home at half past six and we have dinner at seven o'clock in the evening and I read book. I always go to bed at half past eight.

11) Which activity does NOT Tobilay like?

A



B



C



D



12) Which of the following does NOT complete the sentence? Tobilay -----

- A) lives in America
- B) goes to school two days a week
- C) has online classes on ZOOM
- D) goes to bed early

14) Which of the following does NOT have an answer in the text?

- A) What nationality is she?
- B) What does she eat for breakfast?
- C) What time does she get up?
- D) What activity does she dislike?

13) In the text, there is NO information about Tobilay's _____.

- A) brother
- B) daily routine
- C) nationality
- D) likes and dislikes

15) Where does her father work?

- A) at a school
- B) at the police station
- C) at a veterinary clinic
- D) at the fire station. .



NİLÜFER
ANADOLU İMAM HATİP LİSESİ

ÖZEL OKUL DEĞİL,

KİŞİYE ÖZEL OKUL...

